

**ВСЕРОССИЙСКАЯ ОЛИМПИАДА ШКОЛЬНИКОВ
ПО ИСТОРИИ. МУНИЦИПАЛЬНЫЙ ЭТАП. 8 КЛАСС.**

Время выполнения – 90 мин.

1. Прочитайте утверждения и определите их верность или ложность (да или нет). По 1 баллу за каждый правильный ответ. Всего 10 баллов.

А.	Леонардо да Винчи был современником Ивана III								
Б.	Грандиозный московский пожар, уничтоживший почти весь город, произошел в 1547 г.								
В.	Вторым по величине городом в середине XVI в. был г. Ярославль								
Г.	Муфтий – это глава мусульманского духовенства								
Д.	Сигизмунд I был одновременно князем литовским и королем польским								
Е.	Сююмбике – это женщина, которая в XVI в. была правительницей Крымского ханства.								
Ж.	Поводом к Ливонской войне стал отказ Ордена платить дань за город Юрьев								
З.	Крупное купечество в XVI - XVII вв. объединялось в особые профессиональные организации – гостиную и суконную сотни.								
И.	В состав Избранной Рады ходил Иван Пересветов								
К.	Диван (истор.) – совет приближенных хана.								
А.	Б.	В.	Г.	Д.	Е.	Ж.	З.	И.	К.

2. Соотнесите события и даты. Ответ запишите в таблицу. За каждый правильный – 1 балл. Всего 5 баллов.

События					Даты						
А. Открытие пролива между Азией и Северной Америкой экспедицией С. Дежнева					1) 1468-1474 гг.						
Б. Первый поход на р. Обь Федора Курбского и Ивана Салтыка					2) 1483 г.						
В. Открытие Христофором Колумбом Америки					3) 1492 г.						
Г. Походы Ермака в Сибирь					4) 1581-1585 гг.						
Д. Поход А. Никитина в Персию, Аравию, Индию					5) 1648 г.						
А		Б		В		Г		Д			

3. Соотнесите архитектурное сооружение и его предназначение. Ответ запишите в таблицу. За каждый правильный – 1 балл. Всего 5 баллов.

таблицу. За каждый правильный ответ — 1 балл. Всего — 5 баллов.				
Архитектурное сооружение			Значение	
А. Архангельский собор Московского Кремля			1) построен в честь взятия Казани	
Б. Успенский собор Московского Кремля			2) усыпальница московских князей	
В. Грановитая палата			3) построена в честь рождения наследника Василия III	
Г. церковь Вознесения в с. Коломенское			4) место венчания русских царей	
Д. Покровский собор в Москве			5) место для церемониальных приёмов	
А	Б	В	Г	Д

4. Соотнесите понятия и их определения. Ответ запишите в таблицу. За каждый правильный – 1 балл. Всего 5 баллов.

Установите соответствие между понятием и определением.						
Понятие			Определение			
А. ряд			1) налог пушниной			
Б. мир			2) долг			
В. купа			3) повинность			
Г. ясак			4) договор			
Д. тягло			5) община			
А		Б	В	Г	Д	

5. По какому принципу образованы ряды. Всего 5 баллов.

А. стан, уезд, волость, губерния

Б. 1552. 1556, 1557, 1581-1585 гг.

В. шнява, галеас, галиот, баркалон

Г. кантеле, курай, варган, смычковый кубыз

Д. Приказы, Боярская Дума, Земский собор, Дворец

А. _____

Б. _____

В. _____

Г. _____

Д. _____

6. Прочитайте отрывок из документа и ответьте на вопросы к нему. Всего 5 баллов.

«Вот государство стало управляться кружком любимцев. Без совещания с людьми этой...Иван не только ничего не устраивал, но даже несмел мыслить. При этом опекуны Ивана старались по возможности вести дело так, чтобы он не чувствовал тяжести опеки и ему бы казалось, что он по-прежнему самодержавен» Н. Костомаров.

Вопросы:

1. О каком кружке говорит автор? При каком Иване действовал этот кружок? (1 балл)

2. Назовите 2 представителей этого кружка? (2 балла) _____

3. Перечислите не менее 2 реформ, которые были проведены при его участии (2 балла)

7. Рассмотрите иллюстрацию. Ответьте на вопросы к ней. Всего 6 баллов.



Вопросы:

1. Как называется эта монета? Почему она получила такое название? (2 балла)

2. Кто провел эту денежную реформу? В каком веке? (2 балла)

3. Почему эти монеты называли чешуйками? Какова была технология их производства? (2 балла) _____

8. Объясните происхождение ниже приведенных выражений и их значение сегодня. За полный правильный ответ по 2 балла. Всего 6 баллов.

А. «Филькина грамота» _____

Б. «Верста коломенская» _____

В. «У черта на куличках» _____

9. Определите, о ком идет речь. За каждый правильный ответ 1 балл. Всего 5 баллов.

А. Поддерживал добрые отношения с половцами, вместе с которыми воевал с Волжской Булгарией. Вмешивался в княжеские усобицы, расширял свои владения на соседние земли. За конфискацию земель и расширение территории получил свое прозвище.

Б. В 1136 г. по решению веча он был изгнан из города, в котором фактически утвердился республиканский строй.

В. Во главе коалиции 11 русских князей взял и разграбил Киев. В отличие от своего отца, он не остался в «матери городов русских», но, посадив здесь наместника, вернулся во Владимир.

Г. Над чем прежде всего и больше всего работает царь-работник....Он работает над кораблем... вода – это его любимая стихия, он ищет все большего простора на ней; из подмосковного пруда переходит на озеро, с одного меньшего озера на большее, от последнего к морю.

Д. На престоле московских государей он был небывалым явлением... богато одаренный, с бойким умом, легко разрешавший в Боярской Думе самые трудные вопросы... Нарушал заветные обычаи священной московской старины, не спал после обеда, не ходил в баню...Еще более возмущали не одних бояр, но и всех москвичей, своевольные и разгульные поляки, которыми новый царь наводнил Москву.

А. _____

Б. _____

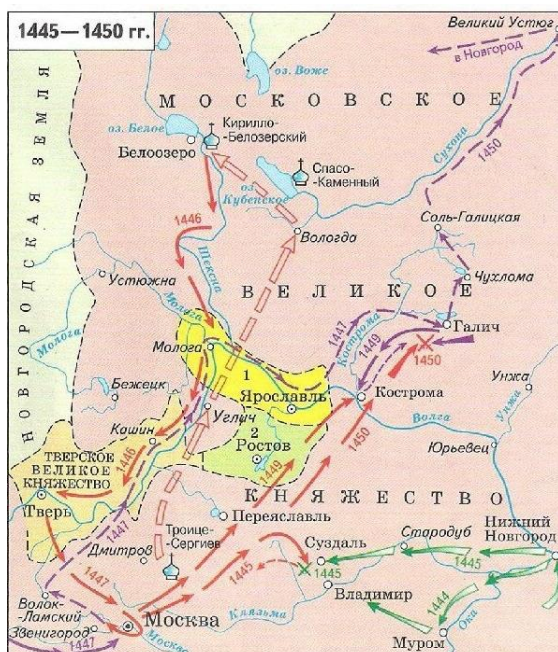
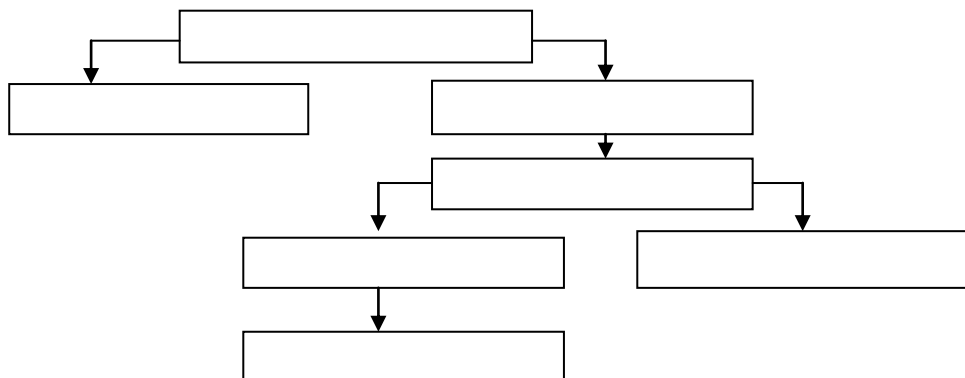
В. _____

Г. _____

Д. _____

10. Заполните схему, разместив московских князей в генеалогическом порядке. Всего 7 баллов.

- 1) Иван Красный 2) Василий Темный 3) Дмитрий Донской 4) Иван Калита
5) Юрий Галицкий 6) Василий I 7) Семеон Гордый



11. Работа с картой. Изучите карту, ответьте на вопросы к ней. Всего 4 балла.

1. С каким событием в истории России связана эта карта? (1 балл) _____

2. Назовите основных 2 участников данного события (1 балл) _____

3. Какую роль в данном событии сыграли монастыри Севера? (1 балл) _____

4. Каков был итог событий, изображенных на карте в поцессе дальнейшего развития России? (1 балл) _____

12. Рассмотрите иллюстрации, подпишите события, изображенные на них, дату события. Соотнесите иллюстрацию с правителем, при котором событие произошло. Всего 12 баллов.




А.




Б.



В.




Г.



1



2



3



4

	Событие	Дата	Правитель (цифра, имя)
А.			
Б.			
В.			
Г.			

11. «Как это по-русски». Даны иностранные слова, Вам нужно написать русский аналог. Всего 5 баллов.

Иностранные слова	Русские слова
Хроники (анналы)	
шляхта	
сеньор	
цитадель	
Рада	

ВСЕГО ЗА ОЛИМПИАДУ 80 БАЛЛОВ